

Муниципальное образование «Гурьевский муниципальный округ»
ВСЕРОССИЙСКАЯ ОЛИМПИАДА ШКОЛЬНИКОВ ПО ИСТОРИИ

(школьный этап)

2023 – 2024 учебный год

5 КЛАСС

Время выполнения работы – 60 минут

Максимальный балл – 100

Задание № 1. Выполните тест. Выберите один вариант ответа из 4-х предложенных. Не забудьте перенести ответы в бланк ответов! (10 баллов)

1. Поиском и исследованием вещественных свидетельств прошлого человечества занимается наука.

1) этнография ② археология 3) хронология 4) этнология

2. Зарождение религии и искусства произошло в период.

1) мезолита 2) энеолита ③ палеолита 4) неолита

3. В ледниковый период основным занятием людей являлось.

1) земледелие ② охота 3) собирательство ④ рыболовство

4. Первыми орудиями труда древнейших людей были.

① рубило, палка-копалка 2) лук и стрелы 3) гарпун, топор 4) ткацкий станок, плуг

5. Человек современного вида появился на земле около

① 60 тысяч лет назад 2) 40 тысяч лет назад 3) 20 тысяч лет назад 4) 10 тысяч лет назад

Задание № 2. Выберите из перечисленного признаки, свидетельствующие об окончании истории первобытности. Запишите в бланк ответов номера признаков (6 баллов).

1) Освоение металлов

② Возникновение письменности

③ Появление земледелия и скотоводства

④ Основание и рост городов

5) Появление религиозных верований

⑥ Появление первых государств

Задание № 3. По какому принципу образованы ряды (9 баллов).

① палка-копалка, гарпун, топор

2) родовая община, стадо, племя

3) охота, собирательство, рыбная ловля

Задание № 4. Вычеркните лишнее слово и объясните свой выбор (6 баллов)

1) Палка-копалка, гарпун, ~~плуг~~, топор *из-за отсутствия принадлежности*2) Мамонт, пещерный медведь, шерстистый носорог, ~~лошадь~~ *для охоты*

Задание № 5. Расположите изобретения первобытного человека в порядке их появления. и к т ко
Запишите получившуюся последовательность букв в таблицу в бланке ответов (12 баллов)

А) лук и стрелы Б) каменное рубило В) медный топор ④ деревянная мотыга

З 2 4 1

Задание № 6. Установи соответствие между событиями и датами и запиши ответ в таблицу в бланке ответов (12 баллов)

СОБЫТИЕ		ДАТА	
1	В каком году область получила название Калининградской	А	1961 г.
2	Когда была принята Конституция Российской Федерации	Б	2014 г.
3	В каком году Ю. А. Гагарин полетел в космос	В	1993 г.

Задание № 7. Вставьте пропущенные слова (8 баллов).

Люди жили на земле более 2 000 000 лет назад. ++

Первый коллектив людей называется стадом. ++

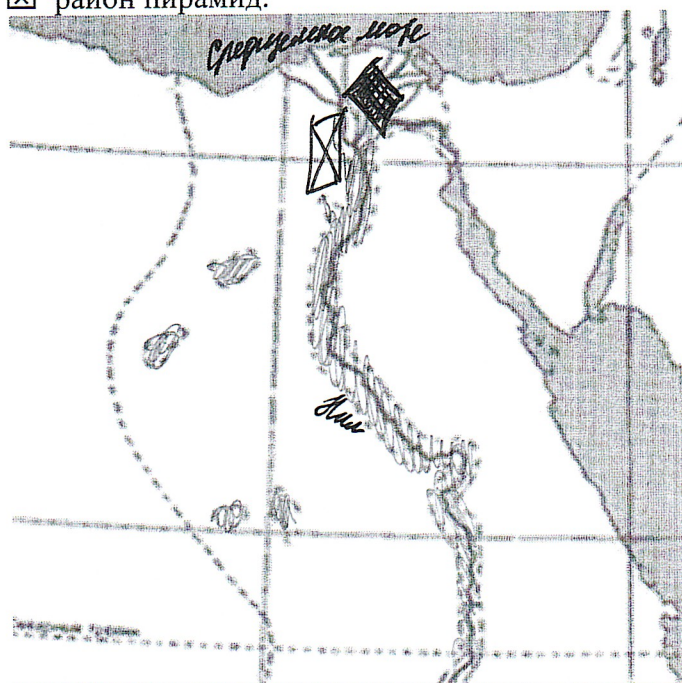
Приблизительно 40 тысяч лет назад человек стал таким же, как люди нашего времени, ученые называют его разумным.

Появившиеся у первобытных людей верования- в колдовство, в душу, жизнь после смерти – называют - религией. ++

Не забудьте выписать добавленные в задании № 7 слова в бланк ответов!

Задание №8. Выполните задания по карте. Максимально – 15 баллов.


1. Надпишите название реки, протекающей через Египет.
2. Закрасьте предполагаемые районы земледелия в Египте.
3. Надпишите названия двух морей, ближайших к Египту.
4. Укажите значком дельту реки.
5. Обозначьте значком район пирамид.

**Задание № 9. Решите задачи. Запишите свои вычисления и ответы в бланк ответов (16 б).**

1. Царь начал править в 23 г. до н. э., а умер в 12 г. н. э. Сколько лет он правил?
2. Какой год был раньше и на сколько раньше - (65 г. до н. э.) или 40 г. н. э.?
3. Если захоронение было сделано в 80 г. до н. э. и в прошлом году археологи его обнаружили, то сколько лет оно пролежало в земле?
4. В Рим был основан в 753 г. до н. э. Сколько лет прошло от основания Рима до рождества Христова?
5. Считается, что первую пирамиду зодчий Имхотеп начал строить в 2750 г. до н. э. Последние пирамиды построены в 1700 г. до н. э. Сколько лет прошло между постройкой первой и последней пирамиды?


Задание № 10. Ознакомьтесь с изображениями флагов городов и областей Российской Федерации. Определи, под какими номерами помещены флаги и запиши номера флагов в таблицу в бланке ответов (6 баллов).

а) Калининградской области




1


б) города Калининграда




2



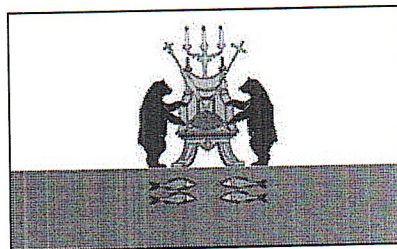
3



4



5



6

И5-7

БЛАНК ОТВЕТОВ

ШИФР	ИСТ-5-7
------	---------

Задание № 1. Выполните тест. (10 баллов).

1	2	3	4	5
2 ++	3 ++	2 ++	1 ++	1

Задание № 2. Укажите номера признаков (6 баллов). Ответ: 3, появление змеиных и скотоводства

Задание № 3. (9 баллов).

- 1) форма туза
- 2) ~~форма туза~~
- 3) заметны переломы шеек

Задание № 4. (6 баллов).

- 1) издан был долом, а все остальные принадлежат для охоты, и в основном ++
- 2) все остальные древние символы а лопатки просто одинаковые пива-
нах которая могли приручить ++

Задание № 5. (12 баллов).

1	2	3	4
2	б	а	в

Задание № 6. (12 баллов).

1	2	3	4
Г	В	А	Б

Задание № 7. (8 баллов)

++ ++ ++

Задание № 8. (до 15 баллов)

- 1) ++
- 2) +++
- 3) ++
- 4) развитии +++
- 5) +++

Задание № 9. (16 баллов).

- 1)
- 2) 652 год.э ++
- 3)
- 4) 253. +++
- 5) 1050 +++

Задание № 10. (6 баллов).

а) 1	б) 3
------	------

6°

Таблица результатов:

Задание №	1	2	3	4	5	6	7	8	9	10	Всего
Мак балл	10	6	9	6	12	12	8	15	16	6	100
Баллы ученика	8	6	6	4	3	12	6	13	8	6	72

Подписи членов жюри: